

令和7年度

神奈川県公立高等学校入学者選抜学力検査問題

共通選抜 全日制の課程

V 社 会

注 意 事 項

- 1 開始の合図があるまで、この問題冊子を開いてはいけません。
- 2 問題は問7まであり、1ページから14ページに印刷されています。
- 3 解答用紙の決められた欄に解答しなさい。
- 4 マークシート方式により解答する場合は、選んだ番号の○の中を塗りつぶしなさい。
- 5 終了の合図があったら、すぐに解答をやめなさい。

受 検 番 号

番

問1 Kさんは、大西洋に面した地域について調べ、次の略地図と表1を作成した。これらについて、あとの各問いに答えなさい。なお、略地図中の緯線は赤道から、経線は本初子午線からそれぞれ15度ごとに引いたものである。また、**P**、**Q**の矢印は、海流の向きを大まかに示したものである。

略地図

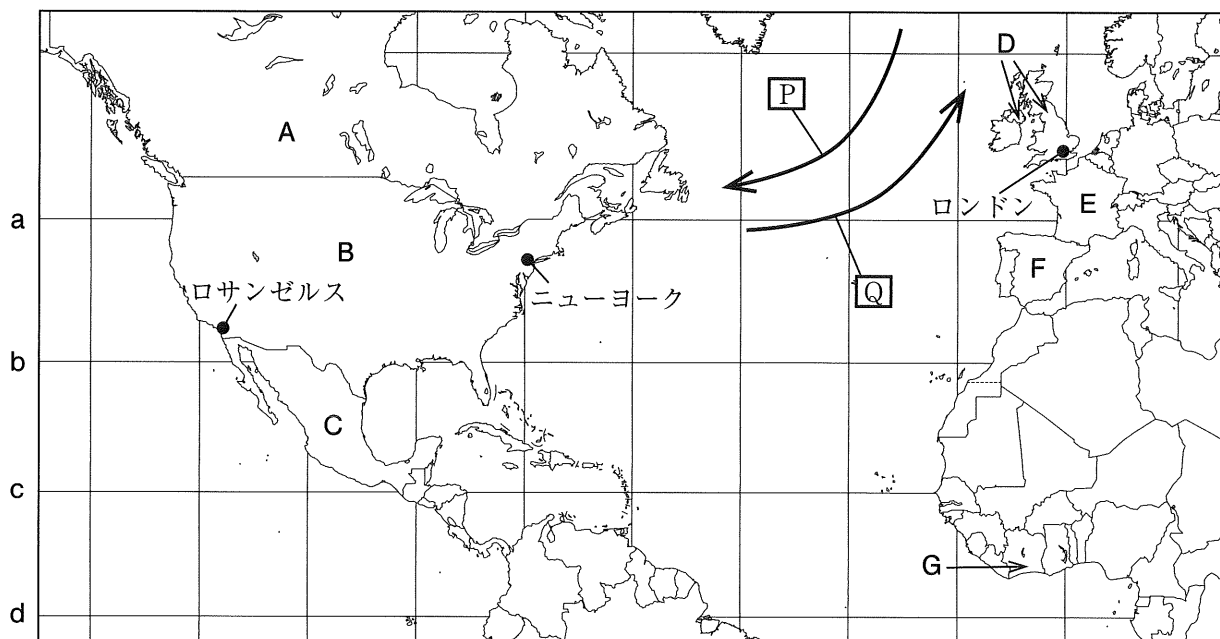


表1 略地図中のA～Gの国における輸出額の合計と輸出額が一位の品目（2022年）及び主な使用言語

国	輸出額の合計 (単位:百万ドル)	輸出額が一位の品目 (数字は、各国の輸出額の合計に占める割合)		主な使用言語
A	596,761	原油	20.2%	英語, フランス語
B	2,062,090	機械類	21.0%	英語
C	577,731	機械類	36.9%	スペイン語
D	535,135	機械類	19.6%	英語
E	618,299	機械類	18.3%	フランス語
F	424,286	自動車	12.3%	スペイン語
G	16,429	カカオ豆	19.6%	フランス語

(『世界国勢図会 2024 / 25』, 外務省ウェブサイト掲載資料をもとに作成)

(ア) ヨーロッパ州の気候について説明した次の文中の **あ** , **い** にあてはまる語句の組み合わせとして最も適するものを、あとの1～4の中から一つ選び、その番号を答えなさい。

略地図中の **あ** の矢印で示された暖流の北大西洋海流と、上空をユーラシア大陸に向かって吹く **い** の影響を受けて、同程度の緯度の他の地域と比べて温暖である。

- | | |
|-----------------------|-----------------------|
| 1. あ: P い: 季節風 | 2. あ: P い: 偏西風 |
| 3. あ: Q い: 季節風 | 4. あ: Q い: 偏西風 |

問2 Kさんは、宮城県仙台市について調べ、次の資料1～資料3を作成した。これらについて、あとの各問いに答えなさい。

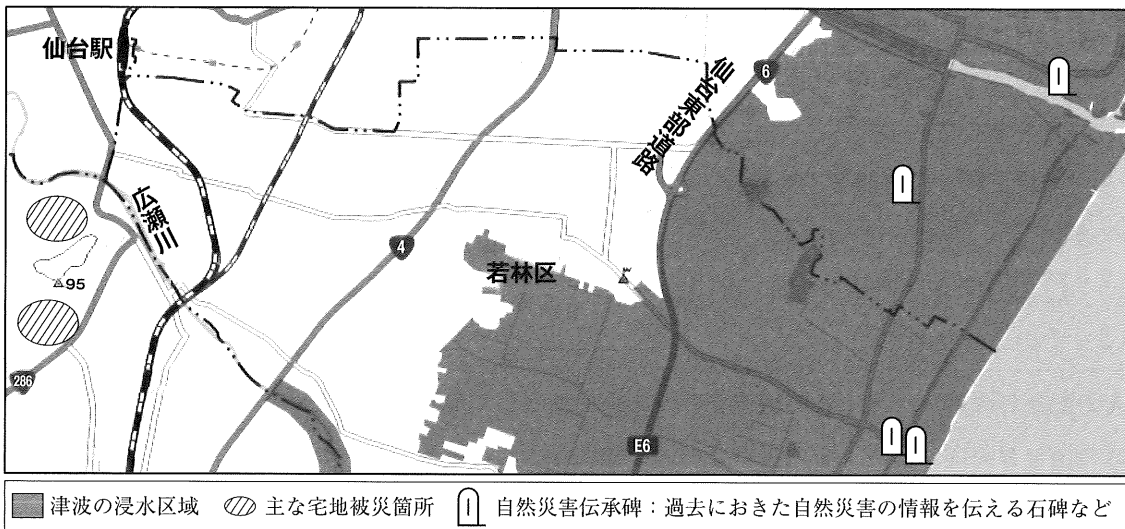
資料1 仙台市の位置



資料2 仙台市とその周辺の市や町のおおよその位置と、その特徴

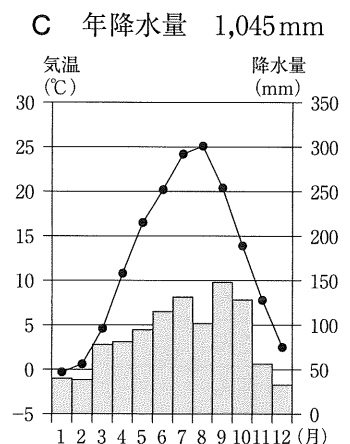
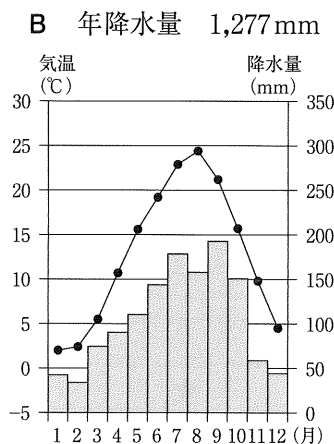
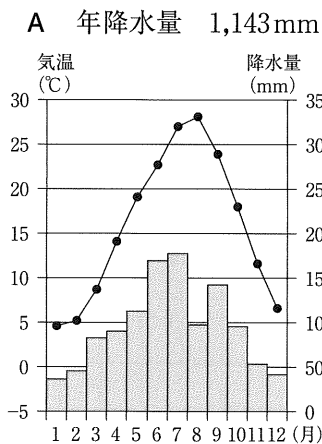
大和町	仙台市	東北地方の政治・経済の中心 ^に な役割を担い、政府の出先機関や企業の支店、大型の商業施設が集まっている。
石巻市	たいわ大和町	高速道路などの交通の利便性を生かし、自動車工場などが集まっている工業団地がある。
仙台市	いしのまき石巻市	寒流の あ と暖流の い がぶつかる三陸沖や、沿岸に広がるリアス海岸の地形を生かした漁業がさかんである。

資料3 東日本大震災における津波の浸水区域と主な宅地被災箇所



〔地理院地図（国土地理院作成）〕一部改変

(ア) 次のグラフA～Cは、資料1で示した都市の気温と降水量を示したものである。グラフと都市の組み合わせとして最も適するものを、あとの1～6の中から一つ選び、その番号を答えなさい。



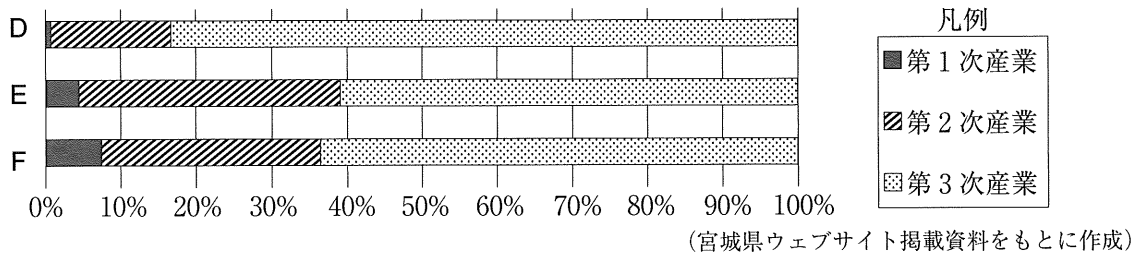
(気象庁ウェブサイト掲載資料 (1991～2020年) をもとに作成)

- | | |
|----------------------------|----------------------------|
| 1. A : 仙台市 B : 松本市 C : 岡山市 | 2. A : 仙台市 B : 岡山市 C : 松本市 |
| 3. A : 松本市 B : 仙台市 C : 岡山市 | 4. A : 松本市 B : 岡山市 C : 仙台市 |
| 5. A : 岡山市 B : 仙台市 C : 松本市 | 6. A : 岡山市 B : 松本市 C : 仙台市 |

(イ) 資料2中の **あ**， **い** にあてはまる語句の組み合わせとして最も適するものを、次の中から一つ選び、その番号を答えなさい。

1. あ：リマン海流 い：対馬海流 2. あ：対馬海流 い：リマン海流
 3. あ：親潮（千島海流） い：黒潮（日本海流） 4. あ：黒潮（日本海流） い：親潮（千島海流）

(ウ) 次のグラフD～Fは、資料2で示した市や町における、2020年の産業別就業者の割合を示したものである。グラフと市または町の組み合わせとして最も適するものを、あとの1～6の中から一つ選び、その番号を答えなさい。



1. D：仙台市 E：大和町 F：石巻市 2. D：仙台市 E：石巻市 F：大和町
 3. D：大和町 E：仙台市 F：石巻市 4. D：大和町 E：石巻市 F：仙台市
 5. D：石巻市 E：仙台市 F：大和町 6. D：石巻市 E：大和町 F：仙台市

(エ) Kさんは、資料3で示した地域の自然災害や防災について調査した。資料3及びこの調査について述べた次の文X～Zの正誤の組み合わせとして最も適するものを、あとの1～8の中から一つ選び、その番号を答えなさい。

X 津波の浸水区域の広がりについて調べるために、資料3の様々な地点の標高を調査する。
 Y 「主な宅地被災箇所」は、津波による被害が大きい、仙台駅を通る線路の東側にのみみられる。
 Z 津波の浸水区域の今後の対策を考えるために、自然災害伝承碑や地域に関する資料を調査する。

1. X：正 Y：正 Z：正 2. X：正 Y：正 Z：誤 3. X：正 Y：誤 Z：正
 4. X：正 Y：誤 Z：誤 5. X：誤 Y：正 Z：正 6. X：誤 Y：正 Z：誤
 7. X：誤 Y：誤 Z：正 8. X：誤 Y：誤 Z：誤

(オ) Kさんは、東日本大震災からの復興について調べ、次の表とメモを追加で作成した。メモ中の **う**， **え** にあてはまる語句の組み合わせとして最も適するものを、あとの1～4の中から一つ選び、その番号を答えなさい。

表 「東北六魂祭」が開催された年と開催地

年	2011	2012	2013	2014	2015	2016
開催地	仙台市	盛岡市	福島市	山形市	秋田市	青森市

メモ

被災地では、非営利組織である **う** 法人やボランティアが様々な支援をおこないました。また、復興を願って、東北地方の伝統的な祭りを一堂に集めた「東北六魂祭」が開催されました。表から、「東北六魂祭」の開催地は、すべて **え** であることがわかります。

1. う：NGO え：政令指定都市 2. う：NPO え：政令指定都市
 3. う：NGO え：県庁所在地 4. う：NPO え：県庁所在地

問3 Kさんは、古代から近世にかけての日本と中国のかかわりについて調べ、次のレポートを作成した。
これについて、あとの各問いに答えなさい。

レポート

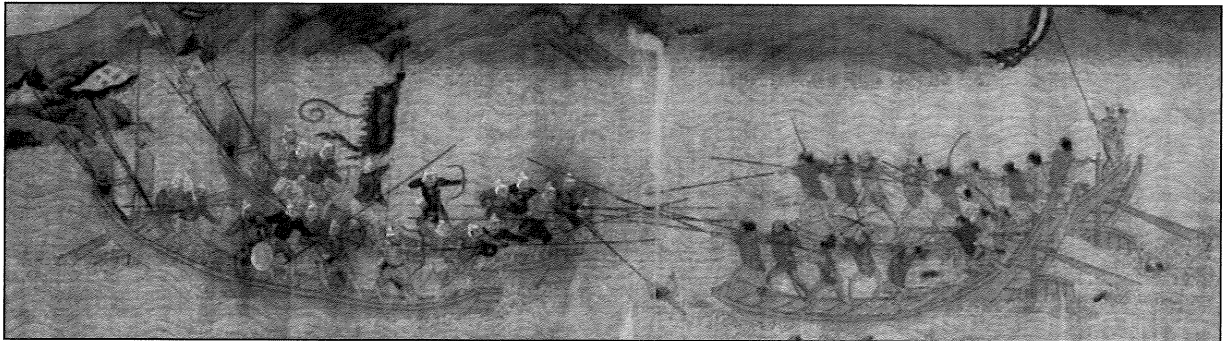
1 古代の日本と中国

日本列島では、中国や朝鮮とのかかわりを通じて国家の形成が進みました。①日本列島の小国(クニ)の王や大和政権(ヤマト王権)の王たちは、中国の皇帝に使いを送ることで、先進的な文物や日本列島内での優越的な地位を手に入れようとしました。また、②中国や朝鮮半島から多くの人びとが古代の日本に渡り、技術や文化を伝えました。

2 中世の日本と中国

次の資料1は、と明軍の戦いを示しています。明は日本にの取り締まりを求め、これに応じたによって日明貿易(勘合貿易)が始まりました。

資料1



(東京大学史料編纂所蔵)

3 近世の日本と中国

江戸時代に外国との貿易は、③「四つの窓口」を通しておこなわれ、中国との貿易はその一つである④長崎でおこなわれました。

(ア) ——線①に関する次のできごとⅠ～Ⅲを年代の古い順に並べたものとして最も適するものを、あとの1～6の中から一つ選び、その番号を答えなさい。

- | |
|--|
| Ⅰ 大和政権(ヤマト王権)の王たちが、たびたび中国の南朝に使いを送った。 |
| Ⅱ 奴国の王が漢(後漢)に使いを送り、金印を与えられた。 |
| Ⅲ 邪馬台国の女王(卑弥呼)が魏に使いを送り、称号と金印、銅鏡を与えられた。 |

- | | | |
|----------|----------|----------|
| 1. Ⅰ→Ⅱ→Ⅲ | 2. Ⅰ→Ⅲ→Ⅱ | 3. Ⅱ→Ⅰ→Ⅲ |
| 4. Ⅱ→Ⅲ→Ⅰ | 5. Ⅲ→Ⅰ→Ⅱ | 6. Ⅲ→Ⅱ→Ⅰ |

(イ) ——線②について述べた文として最も適するものを、次の中から一つ選び、その番号を答えなさい。

- 鑑真によって、仏教における正式な決まりごとである戒律かいりつが日本に伝えられた。
- 新しい建築様式によって、東大寺南大門が再建された。
- 観阿弥・世阿弥親子によって、現在まで続く能が大成された。
- 活版印刷術によって、『平家物語』などの書物が印刷された。

(ウ) レポート中の **あ** , **い** にあてはまる語句の組み合わせとして最も適するものを、次の中から一つ選び、その番号を答えなさい。


- | | | | |
|---------|---------|---------|---------|
| 1. あ：足軽 | い：北条時宗 | 2. あ：足軽 | い：後醍醐天皇 |
| 3. あ：足軽 | い：足利義満 | 4. あ：倭寇 | い：北条時宗 |
| 5. あ：倭寇 | い：後醍醐天皇 | 6. あ：倭寇 | い：足利義満 |

(エ) 線③について、「四つの窓口」のいずれかで、17世紀半ばから19世紀半ばまでにおこったできごととして最も適するものを、次の中から一つ選び、その番号を答えなさい。

1. アイヌの人びととの交易がおこなわれた。
2. ポルトガル人によって、日本に初めて鉄砲が伝わった。
3. 宋との貿易の利益に着目した平清盛が、港を整備した。
4. 大塩平八郎が、反乱をおこした。

(オ) 線④に関して、Kさんは、「江戸時代の長崎に滞在している人びとの様子は、どのようなものであったのだろうか。」という学習課題を設定し、次の資料2を用意しメモを作成した。あとの文a～dのうち、資料2とメモに関して正しく述べた文を二つ選んだときの組み合わせとして最も適するものを、1～6の中から一つ選び、その番号を答えなさい。

資料2 「とうらんかん えまき唐蘭館絵巻」の一部



(長崎歴史文化博物館所蔵)

メモ

資料2は、オランダ商館の医者であるシーボルトと深い関係のある人物によって描かれたもので、唐人屋敷でおこなわれたじゃおどり龍踊とよばれる芸能の様子を表しています。龍踊はもともと中国の催し物ですが、唐人屋敷の近くに住んでいた日本の町民がこれを教わり、現在でも長崎独特の芸能として残っています。

(長崎市ウェブサイト掲載資料をもとに作成)

- | |
|---|
| a 長崎に滞在していた外国の人びとは、住む場所や行動などを制限されていた。 |
| b 中国の人びとと日本の人びとが、貿易以外で接触することはなかった。 |
| c 長崎に滞在していた外国の人びとの中には、私塾をひらいて医学を教えた者もいた。 |
| d 資料2とメモは、江戸時代の上方の文化が現在まで伝わっていることを示す例である。 |

- | | | | | | |
|---------|---------|---------|---------|---------|---------|
| 1. a, b | 2. a, c | 3. a, d | 4. b, c | 5. b, d | 6. c, d |
|---------|---------|---------|---------|---------|---------|

問4 Kさんは、近現代の日本における歌や音楽の歴史について調べ、次のレポートを作成した。これについて、あとの各問いに答えなさい。

レポート

1 社会の混乱と歌

資料は、幕末の人びとが「ええじゃないか」ととなえながら、歌い踊った様子を描いたものです。この騒動のほか、世直しを願う人びとによる百姓一揆や **あ** が各地で発生しました。

2 近代国家としての日本と歌

幕末から一連の改革が進められ、日本は近代国家となりました。自由民権運動が全国に広がるとともに、①「権利幸福きらいな人に自由湯(注)をば飲ませたい」の歌詞で知られる「オッペケペー節」が流行しました。

(注) 自由湯：当時使われていた薬と自由党をかけた表現。

3 音楽の統制

日本では、②第二次世界大戦が始まると、アメリカ合衆国やイギリスの音楽を聴くことが制限されるようになりました。

4 歌の流行

③第二次世界大戦後に連合国軍総司令部(GHQ)の指示による民主化が進む中で、人びとは多様な音楽を聴くことができるようになりました。さらに、**い**の時期にテレビが普及したことで、人びとと音楽のかかわりに変化がもたらされました。

資料



(和歌山市立博物館所蔵)

(ア) レポート中の **あ** , **い** にあてはまる語句の組み合わせとして最も適するものを、次の中から一つ選び、その番号を答えなさい。

- | | | | |
|------------|--------|------------|----------|
| 1. あ：米騒動 | い：大戦景気 | 2. あ：米騒動 | い：高度経済成長 |
| 3. あ：打ちこわし | い：大戦景気 | 4. あ：打ちこわし | い：高度経済成長 |

(イ) 資料について、Kさんは「江戸時代末期に人びとが世直しを願った背景には、どのようなことがあるのだろうか。」という学習課題を設定した。この学習課題を解決するための調査として最も適するものを、次の中から一つ選び、その番号を答えなさい。

1. この時期の身分制度に着目し、全国水平社の活動について調査する。
2. この時期の物価の変動に着目し、日本と欧米諸国との貿易について調査する。
3. この時期の人びとの労働環境に着目し、社会主義の思想の影響について調査する。
4. この時期の人びとに課せられた税や負担に着目し、地租改正の内容について調査する。

(ウ) —線①でたとえられた、明治時代の「権利」と「自由党」について述べた次の文X, Yの正誤の組み合わせとして最も適するものを、あとの1～4の中から一つ選び、その番号を答えなさい。

X 福沢諭吉は、人間の自由や権利などの、欧米の思想を日本に紹介した。

Y 自由党は、憲政会（のちの立憲民政党）と交互に政権を担当した。

1. X：正 Y：正 2. X：正 Y：誤 3. X：誤 Y：正 4. X：誤 Y：誤

(エ) —線②に関して、次の表は、Kさんが第二次世界大戦中におこったできごとを年代の古い順に並べたものである。表中の ～ にあてはまるできごとⅠ～Ⅲの組み合わせとして最も適するものを、あとの1～6の中から一つ選び、その番号を答えなさい。

表

第二次世界大戦中におこったできごと	
・	日ソ中立条約が結ばれた。
・	<input type="text" value="う"/>
・	日本を直接爆撃できる距離にあるサイパン島が、アメリカ合衆国によって占領された。
・	<input type="text" value="え"/>
・	広島に原子爆弾が投下された。
・	<input type="text" value="お"/>
・	日本がポツダム宣言を受け入れた。

Ⅰ ソ連が日本に宣戦布告し、満州などへ侵攻した。

Ⅱ 東京大空襲によって、一夜で約10万人が犠牲となった。

Ⅲ 日本がフランス領インドシナの南部に軍隊を進めた。

1. う：Ⅰ え：Ⅱ お：Ⅲ 2. う：Ⅰ え：Ⅲ お：Ⅱ
 3. う：Ⅱ え：Ⅰ お：Ⅲ 4. う：Ⅱ え：Ⅲ お：Ⅰ
 5. う：Ⅲ え：Ⅰ お：Ⅱ 6. う：Ⅲ え：Ⅱ お：Ⅰ

(オ) —線③の具体例について述べた文として最も適するものを、次の中から一つ選び、その番号を答えなさい。

1. 政府は、官営の工場などを財閥に売り渡した。
2. 衆議院議員選挙法が改正され、満25歳以上の男性のみに選挙権が与えられた。
3. 政府は、地主がもつ小作地の多くを強制的に買い上げて、小作人に安く売り渡した。
4. 満6歳以上の子どもが小学校に通う制度が、初めて定められた。

問5 新しい紙幣の発行について興味をもったKさんは、貨幣について調べ、次のレポートを作成した。これについて、あとの各問いに答えなさい。

レポート

1 貨幣の三つの機能

- ①代金を支払う際における交換機能があります。
- 将来に向けて貯めておくことができる機能があります。
- 価値の大きさを②金額で表す機能があります。

2 紙幣の発行

2024年から発行された日本の新たな一万円札には、近代的③企業の創立と発展に尽力した、渋沢栄一の肖像が印刷されています。日本では、④日本銀行が紙幣を、政府が硬貨を発行しています。

3 支払い手段の変化

日本では、近年、クレジットカード決済や二次元コード・バーコード決済、電子マネー決済などを活用した⑤キャッシュレス決済の普及が進んでいます。

(ア) ——線①に関して述べた文として最も適するものを、次の中から一つ選び、その番号を答えなさい。

1. 店頭での商品の売買における契約は、売り手と買い手が売買に合意した時点では成立せず、支払いが済んではじめて成立する。
2. 企業が労働者に支払う賃金の上限は、法律によって定められている。
3. 社会保険に加入することによって、病院で治療を受けた患者が支払う医療費は、一部で済むことがある。
4. 消費者が商品を購入したときの支払いとともに負担する税は、所得税である。

(イ) ——線②に関して、金額や物価について述べた次の文X～Zの正誤の組み合わせとして最も適するものを、あとの1～8の中から一つ選び、その番号を答えなさい。

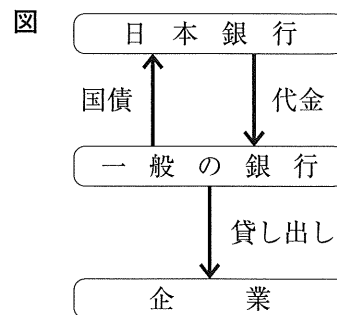
- X 日本では、企業の自由な価格競争を制限するために独占禁止法が制定された。
Y 外国為替市場において、円が売られる動きが進むと、為替レートは円高になりやすい。
Z 日本における鉄道や乗合バスの運賃は、政府や地方公共団体は管理していない。

- | | |
|----------------|----------------|
| 1. X：正 Y：正 Z：正 | 2. X：正 Y：正 Z：誤 |
| 3. X：正 Y：誤 Z：正 | 4. X：正 Y：誤 Z：誤 |
| 5. X：誤 Y：正 Z：正 | 6. X：誤 Y：正 Z：誤 |
| 7. X：誤 Y：誤 Z：正 | 8. X：誤 Y：誤 Z：誤 |

(ウ) ——線③に関して、現代の日本における企業について述べた文として最も適するものを、次の中から一つ選び、その番号を答えなさい。

1. 雇用全体に占める従業者数の割合は、大企業よりも中小企業の方が大きい。
2. 私企業の種類は、株式会社などの共同企業（法人企業）のみである。
3. 株式会社が倒産した場合、株主は出資金を失うだけでなく、会社の債務などを返す義務が生じる。
4. 企業が銀行からお金を借りる金融のしくみは、直接金融とよばれる。

(エ) 右の図は、——線④による金融政策の一例を模式的に示したものである。国債の説明を X, Y から、図から考えられることを a, b から、最も適するものをそれぞれ一つずつ選んだときの組み合わせを、あとの 1～4 の中から一つ選び、その番号を答えなさい。



国債の説明	X 国の歳出に対する歳入の不足を補うために発行される。 Y 日本銀行が発行する。
図から考えられること	a 日本銀行が国債を買い取って市場に流通する国債の量を減らすことによって、国の歳出における国債費を減らすことができる。 b 日本銀行が一般の銀行から国債を買い取ることで、一般の銀行が所有する資金の量が増え、その結果、一般の銀行は企業への貸出金利を引き下げることがある。

1. Xとa 2. Xとb 3. Yとa 4. Yとb

(オ) ——線⑤に関して、次の表から読み取れることとして最も適するものを、レポートを参考にしながら、あとの 1～4 の中から一つ選び、その番号を答えなさい。

表 年齢階層別にみた支払い手段についての考えの割合 (単位：%)

支払い手段についての考え	年齢階層	18～	30～	40～	50～	60～	70～
		29歳	39歳	49歳	59歳	69歳	79歳
クレジットカードで支払いたい		28	38	38	38	46	48
二次元コード・バーコード決済で支払いたい		35	31	27	22	21	16
電子マネーで支払いたい		8	8	12	14	11	8
現金で支払いたい		22	15	19	21	16	24
その他		6	9	5	5	5	3

(公益財団法人 NIRA 総合研究開発機構ウェブサイト掲載資料をもとに作成)

※ 小数第一位を四捨五入しているため、各年齢階層の合計が 100% にならないことがある。

- 「現金で支払いたい」と考えている人の割合は、表中の年齢階層が高くなるにつれて大きくなる。
- 表中のいずれの年齢階層においても、7割以上の人びとが、キャッシュレス決済で支払いたいと考えている。
- 表中のいずれの年齢階層においても、キャッシュレス決済のうち、「二次元コード・バーコード決済で支払いたい」と考えている人の割合が最も大きい。
- キャッシュレス決済で支払いたいと考えている人の割合が最も大きいのは、表中の年齢階層のうち「18～29歳」である。

問6 Kさんは、公民の授業で主要国首脳会議について調べ、次のメモ1を作成した。これについて、あとの各問いに答えなさい。

メモ1

- 2023年5月に、広島市で①主要国首脳会議が開催されました。日本を含む各国政府の首脳が出席し、日本の②内閣総理大臣が議長を務めました。
- 会議では、ロシアによるウクライナ侵略やデジタル技術、③人権など、国際社会における様々な課題が議題として取り上げられました。また、「核軍縮に関するG7首脳広島ビジョン」という声明が発表され、平和に向け「④核兵器のない世界」が「究極の目標」として位置づけられました。一方で、核兵器が果たしてきた核抑止力についても明記されました。
- 主要国首脳会議について調べたことで、立場によって様々な考えや意見があることがわかりました。このことを踏まえて、私は、公民の授業で学習した⑤効率や公正の考え方をもとに、課題の解決に取り組むようにしていきたいです。

(ア) ——線①に関して、次の表から読み取れることについて述べたあとの文a～dの組み合わせとして最も適するものを、1～6の中から一つ選び、その番号を答えなさい。

表 主要国首脳会議参加国の人口及びODA実績(2022年) (人口の単位は千人、ODA実績の単位は百万ドル)

参加国	アメリカ合衆国	イギリス	イタリア	カナダ	ドイツ	日本	フランス
人口	338,290	67,509	59,037	38,454	83,370	124,947	64,627
ODA実績	60,522	15,762	6,646	7,836	35,640	17,500	16,014

(『世界国勢図会 2024 / 25』, 外務省ウェブサイト掲載資料をもとに作成)

- a 表中の参加国には、第二次世界大戦における枢軸国は含まれていない。
- b 表中の参加国には、国際連合の安全保障理事会の常任理事国が、3か国含まれている。
- c 人口一人あたりのODA実績が最も大きい国は、ドイツである。
- d 表中の参加国のうち、EU加盟国のODA実績の合計は、アメリカ合衆国のODA実績よりも大きい。

1. a, b 2. a, c 3. a, d 4. b, c 5. b, d 6. c, d

(イ) ——線②について述べた次の文X～Zの正誤の組み合わせとして最も適するものを、あとの1～8の中から一つ選び、その番号を答えなさい。

- X 内閣は、国会に法律案を提出することができる。
- Y 内閣総理大臣を除くその他の国务大臣は、すべて国会議員以外の者から選ばれる。
- Z 衆議院で内閣不信任の決議案が可決された場合、内閣は必ず総辞職しなければならない。

1. X : 正 Y : 正 Z : 正 2. X : 正 Y : 正 Z : 誤
 3. X : 正 Y : 誤 Z : 正 4. X : 正 Y : 誤 Z : 誤
 5. X : 誤 Y : 正 Z : 正 6. X : 誤 Y : 正 Z : 誤
 7. X : 誤 Y : 誤 Z : 正 8. X : 誤 Y : 誤 Z : 誤

問7 Kさんは、西アジアについて調べ、次のレポートと略地図を作成した。これらについて、あとの各問いに答えなさい。

レポート

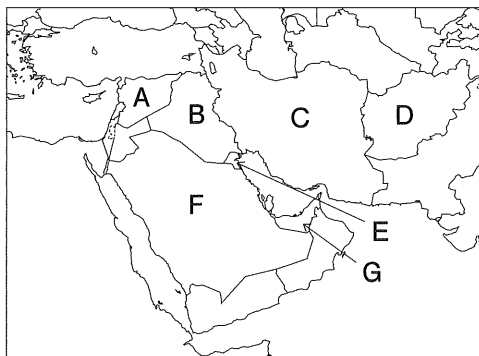
1 西アジアの発展

西アジアには、降水量が少ない①乾燥帯の地域が多く、栽培できる作物に限りがあります。一方で、石油の埋蔵量が豊富で、②石油の輸出で大きな利益を得て経済が発展した国々があります。

2 西アジアの課題

西アジアでは、紛争により、大勢の難民が発生しています。難民の保護活動は、国連難民高等弁務官事務所（UNHCR）を中心におこなわれ、日本は、1981年に「難民の地位に関する③条約」を承認しました。④難民の発生や、国際社会における日本の役割について考えてみたいと思います。

略地図 西アジアの国々（一部）



- A: シリア B: イラク
 C: イラン D: アフガニスタン
 E: クウェート F: サウジアラビア
 G: アラブ首長国連邦

(ア) ———線①に関して、西アジアの乾燥帯に暮らす人びとの生活の特徴について述べた文として最も適するものを、次の中から一つ選び、その番号を答えなさい。

1. 袖や丈が長い薄手の衣服を着用し、羊ややぎなどの遊牧をおこなっている。
2. 家畜の毛からつくられた衣服や帽子を着用し、とうもろこしなどを栽培している。
3. 汗が乾きやすい衣服を着用し、木材でつくられた風通しの良い高床の住居で暮らしている。
4. 動物の毛皮でつくられた厚手の衣服を着用し、窓が二重で壁も厚い、高床の住居で暮らしている。

(イ) ———線②について、次の表は、2023年の日本における原油の主な輸入先と輸入量を示したものである。表と略地図に関して述べた文X、Yの正誤の組み合わせとして最も適するものを、あとの1～4の中から一つ選び、その番号を答えなさい。

表 (単位：千キロリットル)

原油の主な輸入先	輸入量
サウジアラビア	60,689
アラブ首長国連邦	58,605
クウェート	13,348
その他の国及び地域	15,954
合計	148,596

- X 日本が2023年に輸入した原油のうち、西アジアの国以外の輸入先からの輸入量は、「合計」の2割を上回っている。
- Y 西アジアの産油国が原油の価格を上げたことで、日本では経済的な混乱がおこったことがある。

(『世界国勢図会 2024 / 25』をもとに作成)

1. X：正 Y：正 2. X：正 Y：誤 3. X：誤 Y：正 4. X：誤 Y：誤

(ウ) ———線③に関して、条約について述べた次の文X、Yの正誤の組み合わせとして最も適するものを、あとの1～4の中から一つ選び、その番号を答えなさい。

- X 日本において、条約を承認するのは、内閣である。
- Y 子どもの人権を保障するための国際的な条約がある。

1. X：正 Y：正 2. X：正 Y：誤 3. X：誤 Y：正 4. X：誤 Y：誤

- (エ) ー線④について考えるために、Kさんは、次の資料1～資料4を作成した。あとの文a～eのうち、これらの資料から考えられることの組み合わせとして最も適するものを、1～6の中から一つ選び、その番号を答えなさい。

資料1 2023年の西アジアにおける、主な難民発生国と難民の人数 (単位:千人)

難民発生国	難民の人数
アフガニスタン	6,403
シリア	6,356
イラク	329
世界計	31,637

(『世界国勢図会 2024 / 25』をもとに作成)

資料2 西アジアにおける主な紛争や戦争

年	紛争や戦争
1979	ソ連が、アフガニスタンへ侵攻した。
1991	湾岸戦争が始まった。
2001	アメリカ合衆国が、アフガニスタンを攻撃した。
2003	イラク戦争が始まった。
2011	シリア内戦が始まった。

資料3 日本が受け入れている難民の国籍ごとの人数の推移 (上位3か国)

(単位:人)

2021年		2022年		2023年	
国籍	人数	国籍	人数	国籍	人数
ミャンマー	32	アフガニスタン	147	アフガニスタン	237
中華人民共和国	18	ミャンマー	26	ミャンマー	27
アフガニスタン	9	中華人民共和国	9	エチオピア	6
総数	74	総数	202	総数	303

※「総数」には、その他の国籍を含む。

(法務省ウェブサイト掲載資料をもとに作成)

資料4 日本の国際平和協力に関する説明

日本は、国際平和のために、より積極的な役割を果たしていくことが必要と考え、国際連合平和維持活動等に対する協力に関する法律 (PKO 協法力) を制定し、国連を中心とした国際平和のための努力に対して、本格的な人的・物的協力をおこなってきました。

(外務省ウェブサイト掲載資料をもとに作成)

- a 資料1中のいずれの難民発生国においても、21世紀になってから、アメリカ合衆国とのあいだで戦争は起こっていない。
- b アフガニスタンでは、冷戦の終結が宣言される前とあとのどちらの時期においても、紛争や戦争がおこった。
- c シリアで難民が発生する主な要因として、領土内にある聖地エルサレムをめぐる内戦があげられる。
- d 2021年から2023年にかけて、「日本が受け入れている難民の総数に占めるアフガニスタンの人数の割合」は、毎年増加している。
- e 2021年から2023年にかけて、「日本が受け入れている難民の総数」が増加していることは、資料4中の　　の法律がこの期間に制定されたことと関係している。

1. a, c 2. a, d 3. a, e 4. b, c 5. b, d 6. b, e

(問題は、これで終わりです。)

